

令和 7 年度 高校一般入学試験
進学コース

社会

(50 分／100 点満点)

《受験上の注意点》

1. 監督の先生の指示があるまで、試験問題に手を触れないでください。
2. 問題冊子は 21 ページ、解答用紙は 1 枚あります。
3. 解答はすべて解答用紙に記入してください。
4. 問題冊子・解答用紙に受験番号と氏名を記入してください。
5. 問題冊子・解答用紙の回収については監督の先生の指示に従ってください。

受験番号	
氏 名	

Kyoei 京都共栄学園高等学校

(問題は次のページから始まります)

〔1〕 次のⅠ・Ⅱの各問いに答えなさい。(26点)

Ⅰ. 次の表は、平安時代から昭和時代までの関東地方とその周辺に関係する出来事をまとめた年表である。これをもとにあとの問いに答えなさい。

939年	(a) <u>平将門が関東で乱をおこす</u>
1160年	(b) <u>源頼朝が伊豆に流される</u>
1268年	(c) <u>北条時宗が執権になる</u>
1333年	鎌倉幕府が滅亡する
1432年	上杉憲実が(d) <u>足利学校</u> を再興する
A	
1590年	(e) <u>豊臣秀吉が北条氏を滅ぼし、全国を統一</u>
B	
1673年	(f) <u>三井高利が越後屋呉服店を開く</u>
C	
1722年	(g) <u>徳川吉宗が小石川養生所を設置する</u>
D	
1853年	(h) <u>ペリーが浦賀に来航する</u>
1946年	(i) <u>相沢忠洋が群馬県で石器を発見する</u>

(1) 下線部(a)について、同じ時期に西日本で反乱を起こした人物として正しいものを、次のア～エより1つ選び、記号で答えなさい。

ア. 藤原純友 イ. 藤原頼通 ウ. 藤原鎌足 エ. 藤原道長

(2) 下線部(b)について、源頼朝を伊豆に流したのち、太政大臣に就任した人物として正しいものを、次のア～エより1つ選び、記号で答えなさい。

ア. 坂上田村麻呂 イ. 平清盛 ウ. 中大兄皇子 エ. 足利尊氏

(3) 下線部(c)について、北条時宗が執権を務めている時代に起こった出来事として正しいものを、次のア～エより1つ選び、記号で答えなさい。

ア. 応仁の乱が起こる。
 イ. 承久の乱が起こる。
 ウ. 元軍が九州に襲来する。
 エ. 御成敗式目を定める。

(4) 下線部(d)について、来日したフランシスコ・ザビエルは足利学校を「坂東の大学」と紹介した。ザビエルが来日した時期として正しいものを、次のア～エより1つ選び、記号で答えなさい。

- ア. 表中Aの期間 イ. 表中Bの期間
ウ. 表中Cの期間 エ. 表中Dの期間

(5) 下線部(e)について、豊臣秀吉が行った政策として誤っているものを、次のア～エより1つ選び、記号で答えなさい。

- ア. 太閤検地をおこなう。
イ. 朝鮮に出兵する。
ウ. バテレン追放令を出す。
エ. 大宝律令を定める。

(6) 下線部(f)について、次の史料は当時の越後屋を描いたものである。越後屋は史料の赤色の枠内に書かれている、「現金かけねなし」という新しい方法で大きな利益を得た。「現金かけねなし」とはどういう意味か、「価格」という語句を使って説明しなさい。



(『駿河町越後屋図』奥村正信・画 株式会社 三越伊勢丹のHPより引用)

(7) 下線部(g)について、小石川養生所は庶民の意見をもとに設けられた。徳川吉宗が庶民の意見を聞くために設置したものは何か、漢字で答えなさい。

(8) 下線部(h)について、ペリーが来航したあとに起こった外国の出来事として正しいものを、次のア～エより1つ選び、記号で答えなさい。

ア. 中国でアヘン戦争が起こる。

イ. フランスでナポレオン1世が皇帝となる。

ウ. アメリカで南北戦争が起こる。


エ. イギリスで名誉革命が起こる。

(9) 下線部(i)について、次の写真は相沢忠洋が発見した石器の一部である。これらの石器が見つかった群馬県の遺跡はどこか、解答欄に合うように漢字で答えなさい。



(明治大学博物館)

Ⅱ. 次の史料は、1904年に始まった日露戦争を風刺して描かれたフランスの絵ハガキである。次の絵ハガキに関するあとの問いに答えなさい。



(1) シロクマと相撲を取っているのは、当時の日本の天皇である。この天皇の時代に起こった出来事として正しいものを、次のア～エより1つ選び、記号で答えなさい。


- ア. 日本が第一次世界大戦に参戦する。
- イ. ノルマントン号事件が起こる。
- ウ. 日本が国際連盟を脱退する。
- エ. 四国艦隊が下関を砲撃する。

(2) この戦争が起こる前に、日本は人物Aをモデルとした国と、1902年に同盟を結んだ。その結果、この戦争を有利に運ぶことができたが、この軍事同盟を何というか、解答欄に合うように漢字で答えなさい。

(3) この戦争の講和条約は人物Bをモデルとした国の仲介により、1905年に成立した。しかし、日本との関係が悪くなり、講和条約の成立から40年後の8月6日、核兵器を使用して日本の都市を攻撃した。この時に被爆した都市の名を、次のア～エより1つ選び、記号で答えなさい。

ア. 東京 イ. 広島 ウ. 長崎 エ. 那覇

(4) ロシアは、この戦争で敗れた後、第一次世界大戦中に右の人物を指導者とする社会主義革命が起こり、新しい国家として生まれ変わった。この人物は誰か答えなさい。



〔2〕 次のⅠ・Ⅱ・Ⅲの各問いに答えなさい。

(22 点)

Ⅰ. 次の文章を読み、あとの問いに答えなさい。

地方公共団体において、政治をおこなうのは、首長と地方議会です。都道府県の首長は知事、(a)市町村の首長は市町村長とよばれます。(b)国の議院内閣制のしくみとは異なり、(c)地方公共団体では、首長を選挙で直接選び出す(d)大統領制に似たしくみがとられています。

地方議会は、(X)の制定や予算の議決を行います。(X)とは、地域における独自のきまりであり、国における法律にあたります。また、首長による行政が(e)住民のためになっているかどうかを監視する仕事もおこないます。

(1) 文中 (X) に当てはまる語句を漢字 2 字で答えなさい。

(2) 下線部(a)について、市町村長の被選挙権と選挙権の組み合わせとして正しいものを、次のア～エより 1 つ選び、番号で答えなさい。

- ア. 被選挙権 30 歳以上－選挙権 20 歳以上
- イ. 被選挙権 30 歳以上－選挙権 18 歳以上
- ウ. 被選挙権 25 歳以上－選挙権 20 歳以上
- エ. 被選挙権 25 歳以上－選挙権 18 歳以上

(3) 下線部(b)について、次の日本国憲法第 67 条の条文の [] 内に当てはまる語句を、漢字 2 字で答えなさい。

【第 67 条】

内閣総理大臣は、国会議員の中から国会の議決で、これを [] する。この [] は、他のすべての案件に先だつて、これを行ふ。

(4) 下線部(c)について、地方公共団体の財源は自主財源と依存財源に分かれる。依存財源として誤っているものを次のア～エより 1 つ選び、記号で答えなさい。

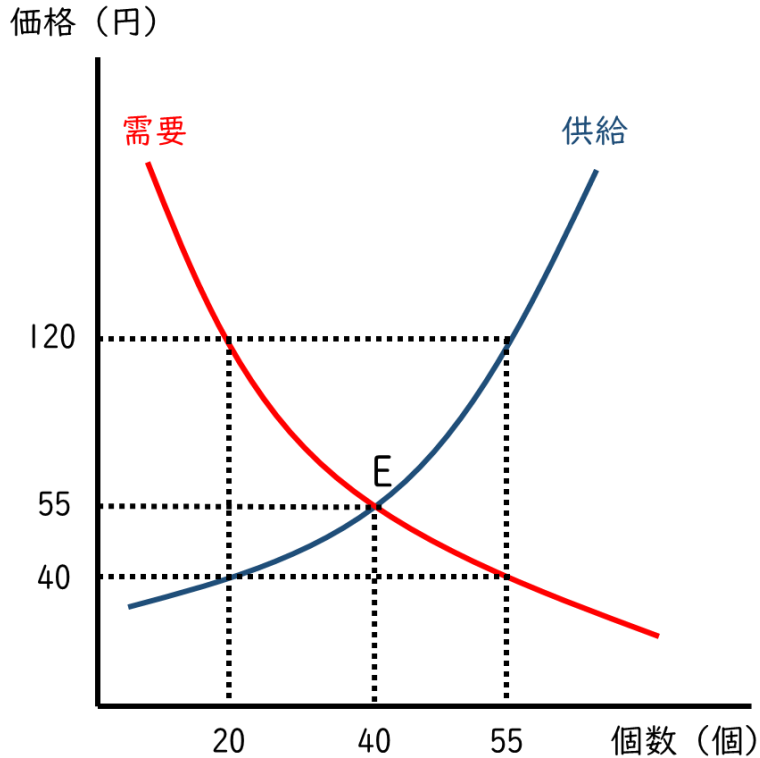
- ア. 地方税 イ. 地方債 ウ. 地方交付税 エ. 国庫支出金

(5) 下線部(d)について、アメリカ合衆国の大統領制について、誤っているものを次のア～エより1つ選び、記号で答えなさい。

- ア. 大統領選挙において、国民は大統領選挙人を選挙する。
- イ. 大統領は、連邦議会を解散する権利を持っている。
- ウ. 連邦議会には、大統領不信任決議権がない。
- エ. 大統領には連邦議会を通過した法案への拒否権がある。

(6) 下線部(e)について、住民は一定数の有権者からの署名を集めることで、地方公共団体の首長や議員の解職を請求することができる。これを何というか、カタカナで答えなさい。

Ⅱ. 次のグラフは、ある商品の需要曲線（赤）と供給曲線（青）を示している。このグラフに関して、あとの問いに答えなさい。

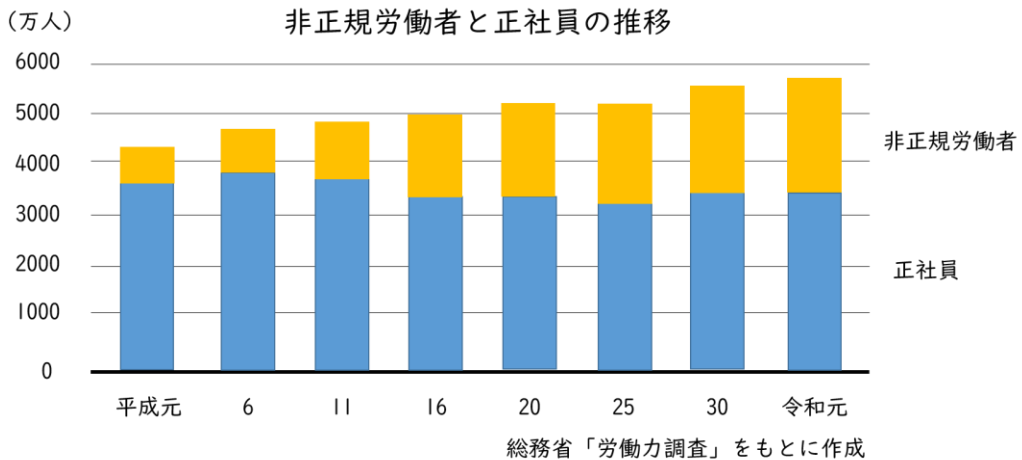


(1) 需要曲線と供給曲線の交点Eは需要量と供給量がつり合った状態である。このつり合った状態を何というか、漢字2字で答えなさい。

(2) このグラフより読み取れることとして正しいものを、次のア～エより全て選び、記号で答えなさい。

- ア. 価格が120円の時、商品が35個余る。
- イ. 価格が120円の時、商品が35個足りなくなる。
- ウ. 価格が40円の時、商品が35個余る。
- エ. 価格が40円の時、商品が35個足りなくなる。

Ⅲ. 次のグラフを参照し、あとの問いに答えなさい。



(1) このグラフより読み取れることとして正しいものを、次のア～エより 1 つ選び、記号で答えなさい。

- ア. 平成元年より平成 25 年の方が非正規労働者の数が少ない。
- イ. 平成元年から令和元年にかけて、正社員数は 3000 万人から 4000 万人のあいだで推移している。
- ウ. 労働者の総数は、令和元年より平成 16 年の方が多い。
- エ. 令和元年には、非正規労働者が正社員の数を上回った。

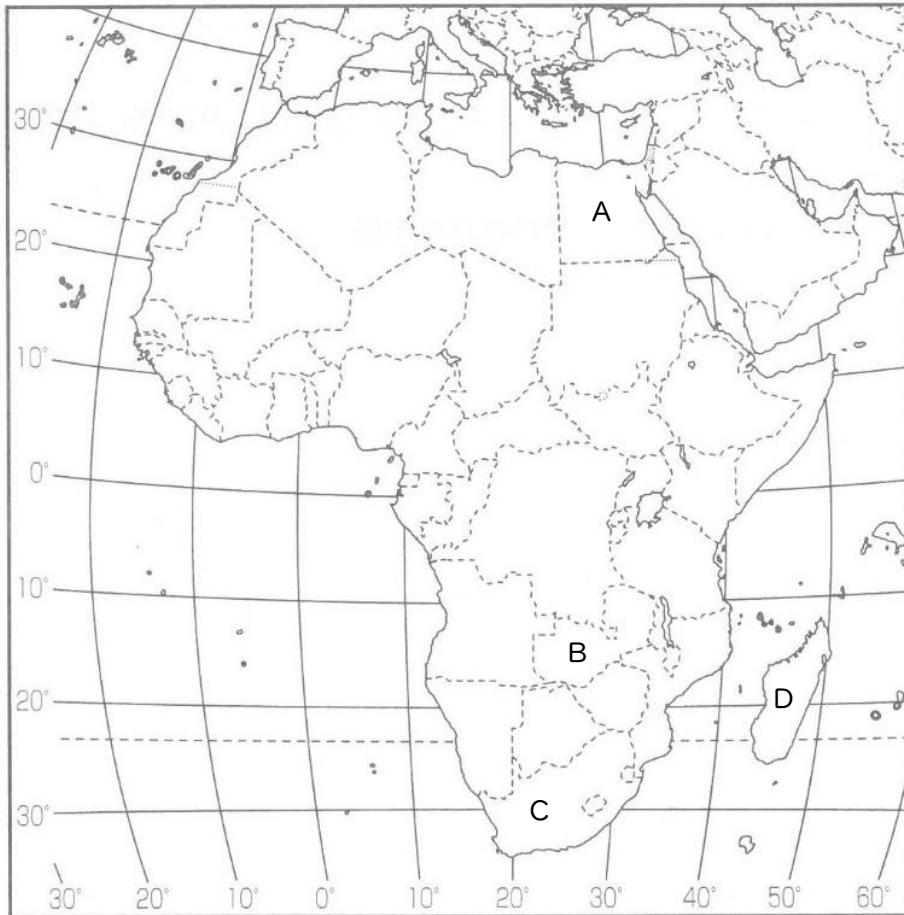
(2) 正社員として同じ企業で定年まで働くことができる制度を何というか、解答欄に合うように漢字 2 字で答えなさい。

(3) 現在の日本社会は様々な労働問題を抱えている。それらの労働問題から 1 つ選び、その内容を具体的に説明しなさい。

〔3〕 次のⅠ・Ⅱの各問いに答えなさい。

(22 点)

Ⅰ. 次のアフリカ大陸の地図をもとに、あとの問いに答えなさい。



(1) 経度0度の経線を赤道から北上するとぶつかる都市として正しいものを、次のア～エより1つ選び、記号で答えなさい。

ア. モスクワ イ. ロンドン ウ. ベルリン エ. ローマ

(2) 地図中Aの国の首都は東経30度の経線が通っている。地図中Aの国が2月10日午前10時のとき、東経135度の経線が通る日本の日時を答えなさい。なお、時刻には必ず午前か午後をつけなさい。

(3) 次の表は地図中Bの国の輸出品目別輸出額を表している。B国のようにアフリカ大陸の国々では特定の鉱産資源や農作物にたよる経済体制にある。こうした経済体制の問題点を説明しなさい。

輸出品目 (2021 年)	輸出額 (億ドル)
銅	76.7
鉄鋼	2.2
機械類	1.4
その他	20.7
合計	101.0

(『世界国勢図会 2023/24』より作成)

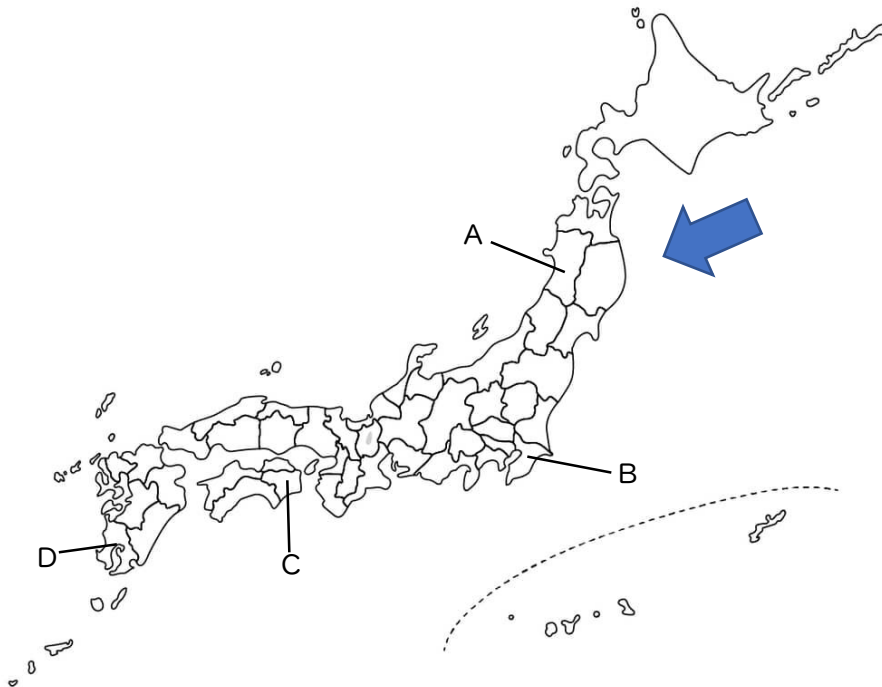
(4) 地図中Cの国について述べた文章として正しいものを、次のア～エより1つ選び、記号で答えなさい。

- ア. 20 世紀の末までアパルトヘイトとよばれる人種隔離政策が実施された。
- イ. 総人口のうち、イスラム教を信仰している人の割合が多い。
- ウ. カカオの世界有数の産地として知られている。
- エ. 第二次世界大戦後までフランスの植民地支配を受けていた。

(5) 地図中Dの国では、次の写真のように森林を伐採して火を入れて整地し、農産物を栽培している。その後、森林を回復させて再び伐採し、同じことをくり返し農業を行っている。このような農業を何というか、漢字で答えなさい。



Ⅱ. 次の日本地図をもとに、あとの問いに答えなさい。



(1) 地図中の矢印は、6～8月ごろに吹く、冷たく湿った風を示したものである。この風を何というか答えなさい。

(2) 次の表は上の地図中のA～Dの県のデータをそれぞれ示したものである。地図中A・Bの県と表中い～にのデータの組み合わせとして正しいものを、次のア～エより1つ選び、記号で答えなさい。

	人口 (千人) 2022 年	米の収穫量 (t) 2022 年	豚肉生産量 (t) 2022 年	製造品出荷額等 (億円) 2021 年
い	6,266	259,500	68,658	130,968
ろ	704	47,600	16,316	20,578
は	930	456,500	23,639	14,057
に	1,563	86,000	206,300	22,062

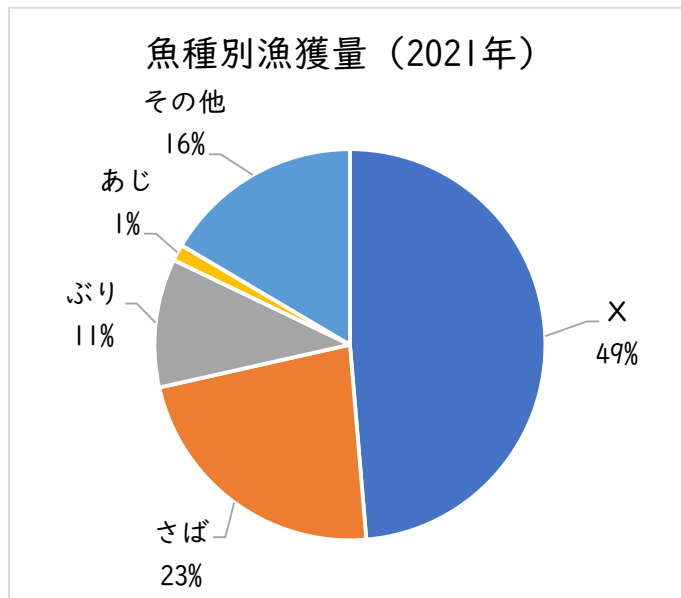
(農林水産省資料、工業統計調査ほか)

- ア. Aーは Bーい イ. Aーは Bーに
 ウ. Aーろ Bーい エ. Aーろ Bーに

(3) 地図中Aの県の伝統行事として正しいものを、次のア～エより1つ選び、記号で答えなさい。

ア. ねぶた祭 イ. さんさ踊り ウ. なまはげ エ. 花笠まつり

(4) 次のグラフは、漁業がさかんな地図中Bの県の魚種別漁獲量を示したものである。グラフ中Xに当てはまる魚種として正しいものを、次のア～エより1つ選び、記号で答えなさい。



（農林水産省「漁業・養殖業生産統計」より作成）

ア. さけ イ. いわし ウ. たら エ. かに

(5) 地図中Cの県の特徴を述べた文として正しいものを、次のア～エより1つ選び、記号で答えなさい。

- ア. 温暖で降水量の少ない気候を生かしたみかんの栽培が盛んである。
- イ. 年間の降水量が2000mmを越え、ピーマンなどの促成栽培が盛んである。
- ウ. 本州四国連絡橋の1つである瀬戸大橋が架かり、本州へ通勤・通学する者も多い。
- エ. 伝統芸能として、400年を超える歴史を持つといわれる阿波おどりがあ

(6) 次の地形図は、地図中Dの県の都市の一部を示している。この地形図について述べた下の文章ア～エのうち、正しいものを1つ選び、記号で答えなさい。



(国土地理院電子地形図 25000 より作成)

- ア. 鹿児島駅の南東側に市役所がある。
- イ. 地図の西側の方が東側より標高が高くなっている。
- ウ. 桜島フェリーターミナルの西側に博物館が1つだけある。
- エ. 線路より南側に発電所は存在しない。

〔4〕 次のⅠ・Ⅱ・Ⅲの各問いに答えなさい。

(30点)

Ⅰ. 栄一さんと梅子さんの会話を読み、あとの問いに答えなさい。

栄一：今度、東京から博多まで新幹線に乗って(α)九州へ旅行に行こうと思っているんだ。

梅子：いいねえ。何時間ぐらいかかるの。途中、どれくらいの駅に止まるの。

栄一：東京を出たら、品川、新横浜、名古屋、(b)京都、新大阪、新神戸、岡山、広島、新山口、小倉に停車するよ。確か5時間ほどかかるよ。私が乗るのぞみ号は静岡県の駅には1つも停車しないんだよ。

梅子：へえ。そういや新幹線って確か、60年ほど前に走り始めたんだっけ。

栄一：そうだよ。当時の日本は1964年の(X)オリンピックを控えていて、高度経済成長とよばれる世界に例のないぐらい経済が成長した時代だったんだ。

梅子：その20年ほど前に日本は戦争に負けて、(c)連合国軍総司令部に占領統治されていた大変な時で、そこからよく短期間で復興したわね。

栄一：本当そうだよ。誇るべき日本の歴史の一部だと思うよ。江戸時代にも伊能忠敬が全国を測量して日本地図を作り、開国後にやってきた西洋人をかなり驚かせたみたいだよ。イギリスはその地図に圧倒されて日本を(d)植民地支配することをあきらめたという話も聞くからね。

梅子：昔から日本の技術力は素晴らしいのね。そういう意味では2034年以降に走り始める予定のリニア新幹線の登場も楽しみだね。

栄一：うん、きっとその時は世界を再び驚かせるだろうね。

(1) 下線部(α)について、討幕に活躍し、明治時代では政府の中心となった次の写真の人物たちの出身地である藩として正しいものを、次のア～エより1つ選び、記号で答えなさい。



ア. 薩摩藩

イ. 長州藩

ウ. 土佐藩

エ. 肥前藩

(2) 下線部(b)について、次の絵は一遍が京都で踊念仏をしている場面を描いたものである。一遍を開祖とする宗教を何というか、正しいものを次のア～エより1つ選び、記号で答えなさい。



(東京国立博物館)

ア. 時宗 イ. 浄土真宗 ウ. 曹洞宗 エ. 真言宗

(3) 下線部(c)について、次の写真はこの機関の最高司令官として占領政策をおこなった人物である。この人物は誰か答えなさい。

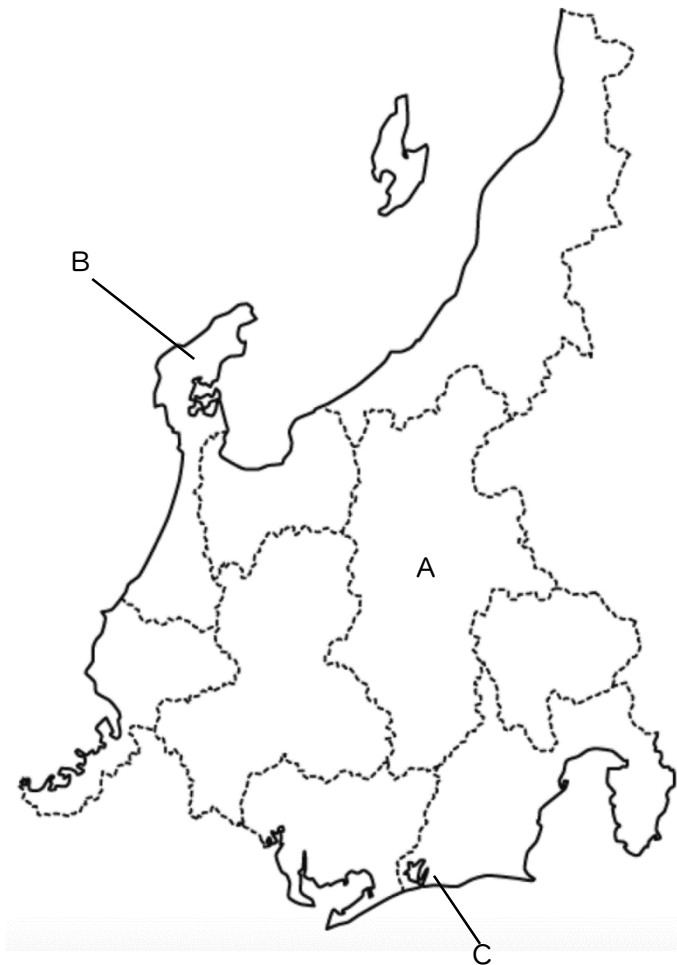


(4) 下線部(d)について、日本が日清戦争の講和条約で植民地とした地域として正しいものを、次のア～エより1つ選び、記号で答えなさい。

ア. 満州 イ. 台湾 ウ. 南樺太 エ. 千島列島

(5) 文中(X)に当てはまる都市名を漢字で答えなさい。

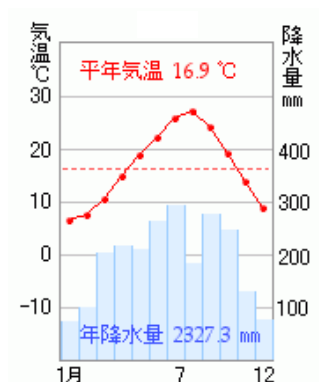
Ⅱ. 次の地図をもとにあとの問いに答えなさい。



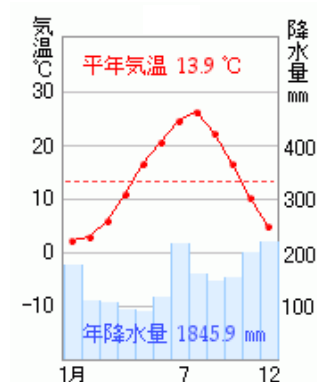
(Ⅰ) 地図中の県のうちにある、2024 年 7 月に世界文化遺産に登録された物件として正しいものを、次のア～エより 1 つ選び、記号で答えなさい。

- ア. 白川郷・五箇山の合掌造り集落
- イ. 明治日本の産業革命遺産 製鉄・製鋼、造船、石炭産業
- ウ. 佐渡島の金山
- エ. 富士山ー信仰の対象と芸術の源泉

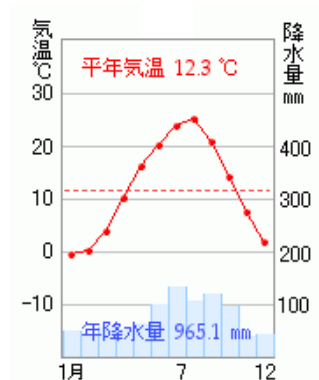
(2) 地図中Aの県の県庁所在地の雨温図として正しいものを、次のア～エより1つ選び、記号で答えなさい。



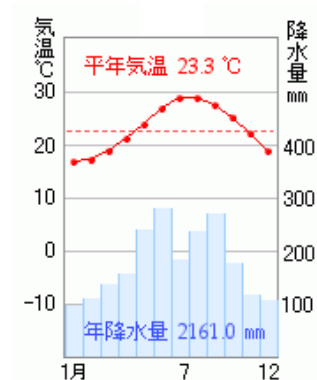
ア



イ



ウ



エ

(気象庁平年値・統計期間 1991～2020 年)

引用先の URL : <https://www.nocs.cc/study/uonzujp.htm> 日本各地の雨温図

(3) 次の写真は、地図中の半島Bで伝統産業とされている漆器である。この半島で製作される漆器を何というか、解答欄に合うように漢字2字で答えなさい。



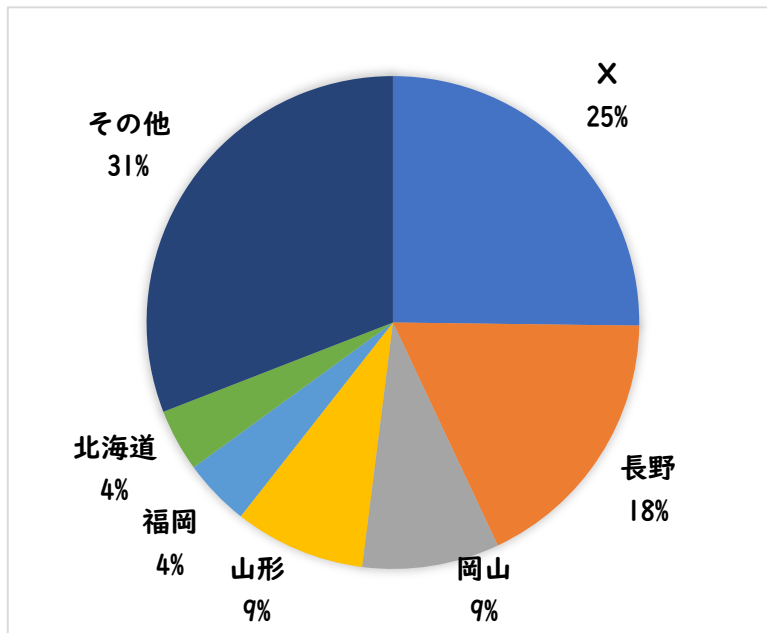
(石川県のHPより引用)

(4) 次の写真は、地図中Cの都市のご当地キャラクター「出世大名康くん」である。この都市は、若き日の徳川家康が開発し、当時から多くの職人が集まり、工業が盛んで、現在は輸送機械や楽器の生産で知られている。地図中Cの都市名として正しいものを、次のア～エより1つ選び、記号で答えなさい。



ア. 静岡市 イ. 富士市 ウ. 浜松市 エ. 牧之原市

(5) 次のグラフは、ぶどうの県別生産量の割合をあらわしたものである。グラフ中のXに当てはまる、地図中の県として正しいものを、次のア～エより1つ選び、記号で答えなさい。



(『データでみる県勢』2024より作成)

ア. 富山県 イ. 静岡県 ウ. 山梨県 エ. 新潟県

Ⅲ. 次の条文を読み、あとの問いに答えなさい。

第1条【目的】

この(α)法律は、消費者と事業者との間の情報の質及び量並びに交渉力等の格差にかんがみ、消費者の利益の擁護及び増進に関し、(b)消費者の権利の尊重及びその自立の支援その他の基本理念を定め、国、地方公共団体及び(c)事業者の責務等を明らかにするとともに、その施策の基本となる事項を定めることにより、消費者の利益の擁護及び増進に関する総合的な施策の推進を図り、もつて(d)国民の消費生活の安定及び向上を確保することを目的とする。

(1) 2004年に改正され、公布された上記の法律名として正しいものを、次のア～エより1つ選び、記号で答えなさい。

ア. 製造物責任法 イ. 消費者基本法 ウ. 独占禁止法 エ. 情報公開法

(2) 下線部(α)について、法律案が本会議で可決される条件として正しいものを、次のア～エより1つ選び、記号で答えなさい。

ア. 総議員の3分の2以上の賛成
イ. 総議員の過半数の賛成
ウ. 出席議員の3分の2以上の賛成
エ. 出席議員の過半数の賛成

(3) 下線部(b)について、一度結んだ契約でも、訪問販売や電話勧誘販売の場合、8日以内であれば契約の解除ができる制度を何というか答えなさい。

(4) 下線部(c)について、事業者のうち、株式を発行している企業を株式会社とよぶ。株式会社の株主が、保有している株式の数に応じて受け取る利潤の分配のことを何というか、漢字2字で答えなさい。

(5) 下線部(d)について、日本国憲法で定められている国民の三大義務のうち、1つを選んで答えなさい。

令和7年度 一般入学試験 解答用紙 「社会」 京都共栄学園高等学校進学コース

受験番号		氏名					採点	
------	--	----	--	--	--	--	----	--

〔1〕	I	(1)		(2)		(3)		
		(4)		(5)				
		(6)						
		(7)			(8)			
		(9)	遺跡					
	II	(1)		(2)	同盟		(3)	
		(4)						

〔2〕	I	(1)			(2)		(3)	
		(4)		(5)		(6)		
	II	(1)			(2)			
		III	(1)		(2)	雇用		
	(3)							

〔3〕	I	(1)		(2)				
		(3)						
		(4)		(5)				
	II	(1)			(2)		(3)	
		(4)		(5)		(6)		

〔4〕	I	(1)		(2)		(3)	
		(4)		(5)			
	II	(1)		(2)		(3)	塗
		(4)		(5)			
	III	(1)		(2)		(3)	
		(4)			(5)		

令和7年度 一般入学試験 解答用紙 「社会」 京都共栄学園高等学校進学コース

受験番号		氏名					採点	
------	--	----	--	--	--	--	----	--

〔1〕	I	(1)	ア	(2)	イ	(3)	ウ		
		(4)	ア	(5)	エ				
		(6)	固定価格・現金払いによる販売のこと						
		(7)	目安箱		(8)	ウ			
		(9)	岩宿		遺跡				
	II	(1)	イ	(2)	日英		同盟	(3)	イ
		(4)	レーニン						

〔2〕	I	(1)	条例		(2)	エ	(3)	指名
		(4)	ア	(5)	イ	(6)	リコール	
	II	(1)	均衡		(2)	ア、エ		完答
		III	(1)	イ	(2)	終身		
	(3)		長時間労働、賃金格差、ブラック企業、パワハラ、セクハラなど					

〔3〕	I	(1)	イ	(2)	2月10日午後5時			
		(3)	販売価格が不安定で、収入が安定しない					
		(4)	ア	(5)	焼畑農業			
	II	(1)	やませ		(2)	ア	(3)	ウ
		(4)	イ	(5)	エ	(6)	イ	

〔4〕	I	(1)	ア	(2)	ア	(3)	マッカーサー	
		(4)	イ	(5)	東京			
	II	(1)	ウ	(2)	ウ	(3)	輪島 塗	
		(4)	ウ	(5)	ウ			
	III	(1)	イ	(2)	エ	(3)	クーリング・オフ（制度）	
(4)		配当		(5)	納税の義務、勤労の義務、保護する子女に普通教育を受けさせる義務から1つ		ひらがなでも可	